



نام:

نام خانوادگی:

نام پدرو:

شعبه کلاس:

تعداد صفحات: ۴

پسند تقابلی

وزارت آموزش و پرورش

اداره سنجش و پرورش استان گیلان و بزرگراه

اداره سنجش ریایش کیفیت آموزشی

آزمون درسی مطالعات اجتماعی نهم (متوسطه اول)

باید نمره

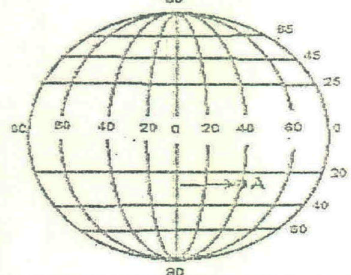
نوعت آزمون: خردادماه ۹۸

تاریخ آزمون: ۹۸/۳/۱۱




مدت آزمون: ۷۰ دقیقه

ساعت شروع: ۸ صبح

بارم	بخش اختیاری «دانش آموز عزیز در این بخش دو فصل را انتخاب کنید و فقط به سوالات همان دو فصل پاسخ دهید. (دقت کنید به بیش از دو فصل پاسخ ندهید؛ زیرا در این صورت به ترتیب پاسخ سوالات دو فصل تصحیح و بقیه حذف خواهد شد).	ردیف
۱۵ ۱۵ ۱ ۱۵	<p>۱- زمان رسمی مبنای آن موقعیت خورشید در آسمان است. ص <input type="checkbox"/> غ <input type="checkbox"/></p> <p>۲- اختلاف مدت شبانه روز در اثر کدام یک از عوامل زیر ایجاد می شود؟ الف) حرکت انتقالی <input type="checkbox"/> ب) حرکت وضعی <input type="checkbox"/> ج) اعتدال پاییزی <input type="checkbox"/> د) انحراف محور قطب ها <input type="checkbox"/></p> <p>۳- طول جغرافیایی هر مکان را تعریف کنید.</p> <p>۴- مختصات جغرافیایی نقطه (A) با استفاده از شکل زیر مشخص کنید و علائم اختصاری آن را بنویسید. طول جغرافیایی نقطه (A): .....</p>	فصل اول
۱۵ ۱۵ ۱ ۱۵	<p>۱- ارتفاع شهری از سطح دریا ۱۰۰۰ متر و دمای آن ۵ درجه است قله ای با ارتفاع ۳۵۰۰ متر دمای آن چند است؟ الف) ۲۰ درجه <input type="checkbox"/> ب) ۱۰- درجه <input type="checkbox"/> ج) ۱۰ درجه <input type="checkbox"/> د) ۲۰- درجه <input type="checkbox"/></p> <p>۲- جنگل های کنگو در آفریقا دارای آب و هوای گرم و خشک است. ص <input type="checkbox"/> غ <input type="checkbox"/></p> <p>۳- با توجه به اصطلاحات داده شده عوامل طبیعی و عوامل انسانی، تغییر شکل ناهمواری را مشخص نمایید. (چین خوردگی - فرسایش آبی - سد-هوازدگی - کوه های آتشفشانی - جاده) الف) عوامل طبیعی درونی: (..... و .....) ب) عوامل انسانی: (..... و .....)</p> <p>۴- پیامدهای ناخوشایند گرم شدن زمین چیست؟ (۲ مورد)</p>	فصل دوم
۱۵ ۱۵ ۱ ۱۵	<p>۱- این منطقه آب و هوایی درای زمینی همیشه مرطوب و به داشتن جنگل های مخروطی و سوزنی برگ معروف است. الف) توندرا <input type="checkbox"/> ب) تایگا <input type="checkbox"/> ج) ساوان <input type="checkbox"/> د) جنگل های استوایی <input type="checkbox"/></p> <p>۲- کدام عامل در وجود یک زیست بوم، مهمترین و بیشترین تأثیر را دارد؟ الف) آب و هوا <input type="checkbox"/> ب) شکل ناهمواری <input type="checkbox"/> ج) میزان ارتفاع <input type="checkbox"/> د) جنس خاک <input type="checkbox"/></p> <p>۳- به نظر شما برای استفاده صحیح و خردمندانه از منابع طبیعی به چه نکاتی باید توجه کرد؟ (۲ مورد)</p> <p>۴- تخریب جنگل های استوایی در کشورهای برزیل و اندونزی بسیار گسترش یافته است. ص <input type="checkbox"/> غ <input type="checkbox"/></p>	فصل سوم



<p>۱۵ /</p> <p>۱۵ /</p> <p>۱۵ /</p> <p>۱</p>	<p>۱- کدام یک از مِلاک های توسعه انسانی، نشان دهنده وضعیت سلامت و بهداشت در یک جامعه است؟</p> <p>الف) درآمد و رفاه <input type="checkbox"/> ب) سواد و آموزش <input type="checkbox"/> ج) امید به زندگی <input type="checkbox"/> د) رضایت از زندگی <input type="checkbox"/></p> <p>۲- تفاوت میزان مولید و میزان مرگ و میر، رشد منفی جمعیت را نشان می دهد. ص <input type="checkbox"/> غ <input type="checkbox"/></p> <p>۳- در مهاجرت اجباری، افراد با میل و تصمیم خود برای زندگی بهتر به جای دیگری مهاجرت می کنند. ص <input type="checkbox"/> غ <input type="checkbox"/></p> <p>۴- دو مورد از عوامل خارجی که باعث نابرابری در جهان شده را بنویسید؟</p>	<p>فصل چهارم</p>
<p>۱۵ /</p> <p>۱۵ /</p> <p>۱</p> <p>۱۵ /</p>	<p>۱- من کیستم؟</p> <p>« از صوفیان معروف زمان خودم بودم که پیروان و طرفداران زیادی داشتم، خانقا هم در اردبیل مورد توجه مردم بود:» (.....)</p> <p>۲- هنگام به قدرت رسیدن صوفیان، همسایگان ایران چه فکری بر سر داشتند؟</p> <p>الف) تبلیغ مذهب <input type="checkbox"/> ب) روابط تجاری <input type="checkbox"/> ج) گسترش قلمرو <input type="checkbox"/> د) حمایت از صوفیان <input type="checkbox"/></p> <p>۳- عوامل گسترش و رونق تجارت در دوره صفویه را بیان نمایید. (۲ مورد)</p> <p>۴- کدام پادشاه صفویه پایتخت خود را از تبریز به قزوین انتقال داد؟</p> <p>الف) شاه تهماسب <input type="checkbox"/> ب) شاه اسماعیل <input type="checkbox"/> ج) شاه سلطان حسین <input type="checkbox"/> د) شاه عباس <input type="checkbox"/></p>	<p>فصل پنجم</p>
<p>۱۵ /</p> <p>۱۵ /</p> <p>۱</p> <p>۱۵ /</p>	<p>۱- به موجب عهدنامه ..... سرزمین های ایرانی شمال رود ارس به تصرف روسیه درآمد.</p> <p>۲- انگلستان کدام پادشاه را وادار کرد با جدایی قسمت شرقی سیستان و بلوچستان از ایران موافقت کند؟</p> <p>الف) محمد شاه <input type="checkbox"/> ب) آقا محمدخان <input type="checkbox"/> ج) مظفرالدین شاه <input type="checkbox"/> د) ناصرالدین شاه <input type="checkbox"/></p> <p>۳- اقدامات اصلاحی امیرکبیر، در حوزه سیاست خارجی را بیان کنید. (ذکر ۲ مورد)</p> <p>۴- «وکیل الرعایا» لقب کدام یک از پادشاهان زیر است؟</p> <p>الف) کریم خان <input type="checkbox"/> ب) نادرشاه <input type="checkbox"/> ج) آقا محمدخان <input type="checkbox"/> د) شاه عباس <input type="checkbox"/></p>	<p>فصل ششم</p>

بارد	پیش‌گیری برای پیش‌گیری از بروز بیماری‌ها در این بخش نقش به‌تازگی داشته است. تا دوازدهم پاسخ دهید.	ردیف
۱۵	۱- ناصرالدین شاه فرمان مشروطه را در تاریخ ۱۲ مرداد ۱۲۸۵ ش. صادر کرد. ص <input type="checkbox"/> غ <input type="checkbox"/>	فصل
۱۵	۲- مهمترین خواسته مشروطه خواهان چه بود؟	هشتم
۱۵	الف) آزادی مشروطه خواهان <input type="checkbox"/> ب) تأسیس عدالت خانه <input type="checkbox"/> ج) برقراری نظم <input type="checkbox"/> د) برکناری مظفرالدین شاه <input type="checkbox"/>	
۱۵	۳- علت کودتای سوم اسفند ۱۲۹۹ چه بود؟	
۱۵	۴- هدف اصلی متفقین از اشغال ایران در شهریور ۱۳۲۰ در جنگ جهانی دوم چه بود؟	
۱۵	۵- در جریان ملی شدن صنعت نفت ایران چه کسی رهبری نهضت را بر عهده داشت؟	
۱	۱- نمودار زیر نشان دهنده روند تأسیس نظام جمهوری اسلامی ایران است. با توجه به زمان هر واقعه موارد زیر را در نمودار بنویسید. (تعیین هیئت دولت - تصویب قانون اساسی - تشکیل دومین دوره مجلس خبرگان)	فصل هشتم
	<div style="display: flex; justify-content: space-around; align-items: center;"> <div style="border: 1px solid black; padding: 5px; text-align: center;">.....</div> <div style="border: 1px solid black; padding: 5px; text-align: center;">انتخابات اولین دوره ریاست جمهوری</div> <div style="border: 1px solid black; padding: 5px; text-align: center;">.....</div> <div style="border: 1px solid black; padding: 5px; text-align: center;">تعیین نظام سیاسی</div> </div>	
۱	۲- برای عبارت سمت راست پاسخ مناسبی از سمت چپ انتخاب کرده و حرف مربوط به آن را داخل پرانتز بنویسید. (یک مورد اضافی است)	
	الف) تصویب نامه انجمن های ایالتی و ولایتی (.....) مصونیت قضایی مأموران نظامی آمریکا	
	ب) اصول شش گانه (.....) اعتراض به انتشار مقاله توهین آمیز به امام در روزنامه اطلاعات	
	ج) قیام ۱۵ خرداد ۱۳۴۲ (.....) سخنرانی تاریخی امام خمینی در مدرسه فیضیه قم	
	د) لایحه کاپیتولاسیون (.....) انقلاب سفید	
	(.....) لغو شرط مسلمان بودن برای انتخاب شوندگان	
۱۵	۳- در ۱۳ آبان ۱۳۴۳ رژیم شاه امام خمینی (ره) را به عراق تبعید کرد. ص <input type="checkbox"/> غ <input type="checkbox"/>	
۱۵	۱- نمادها، در جریان روابط اجتماعی بوجود می آیند. ص <input type="checkbox"/> غ <input type="checkbox"/>	فصل
۱۵	۲- مهمترین دلایل پیروی از هنجارها را بنویسید. (۱) ..... (۲) .....	نهم
۷۵	۳- تصاویر زیر کدامیک از عناصر هویت ملی (ویژگی های مشترک جامعه ایرانی) ما را نشان می دهد؟	
	<div style="display: flex; justify-content: space-around; align-items: center;"> <div style="text-align: center;">  <p>(ج)</p> </div> <div style="text-align: center;">  <p>(ب)</p> </div> <div style="text-align: center;">  <p>(الف)</p> </div> </div>	
۷۵	۴- عمده ترین عناصر هویت یک ملت را نام ببرید. الف: ..... ب: ..... ج: .....	

فصل دهم

۱۵ ۱- مهمترین مرحله جامعه پذیری در اجتماع و ارتباط با گروه همسالان انجام می شود. ص  غ

۱۵ اولین شرط برای بقای هر جامعه ..... است.

۱۵ (الف) خودباوری  (ب) اصالت خانواده  (ج) شناخت اطرافیان  (د) انتخاب صحیح همسر

۱۵ چگونه می توان از بروز ناسازگاری بین زن و مرد جلوگیری کرد؟ (۲ مورد)

الف: ..... ب: .....

۱۵ ۵- چرا اجتماعی شدن هم نیاز فرد و هم نیاز جامعه است؟

فصل یازدهم

۱۵ ۱- امروزه نوع حکومت ها در جوامع مختلف با هم فرق دارد. ص  غ

۱۵ ۲- در جهان بینی توحیدی اسلام، حق مالکیت مطلق همه موجودات از آن کیست؟

الف) پیامبر  (ب) ولی فقیه  (ج) خدا  (د) امامان

۱۵ ۳- از مهمترین وظایف و اختیارات رهبر جمهوری اسلامی ایران، یک مورد را بنویسید.

۱ ۴- بر اساس قانون اساسی جمهوری اسلامی شهروندان چه حقوقی دارند؟ (۲ مورد)

الف: ..... ب: .....

فصل دوازدهم

۱۵ ۱- به افراد زیر، راهکارهای مناسب افزایش بهره وری را پیشنهاد کنید.

الف: علی اغلب دیر به سر کارش می رسد .....

ب: احمد بیشتر وقت خود را با برنامه های تلویزیونی می گذراند .....

۱۵ ۲- به سوال زیر پاسخ کوتاه دهید.

الف: محور اصلی اقتصاد مقاومتی چه می باشد؟

۳- آقای محمودی در کارگاه کوچکش روزانه ۱۰ دست کت و شلوار تولید می کند. او چگونه می تواند در کارش بهره وری داشته باشد؟ (۲ پیشنهاد ارائه دهید).

۱۵ ۴- با دقت بخوانید و جاهای خالی را با کلمات مناسب تکمیل کنید.

.....	.....	نهاد
کالا، خدمت	روش های تولید، توزیع	۱- ..... ۳- سرمایه
		۲- ..... ۴- سایر هزینه ها

«موفقیت شما آرزوی ماست»